

وزارة التربية

الإدارة العامة لمنطقة الفروانية التعليمية

مدرسة أبو موسى الأشعري م. بنين

قسم الاجتماعيات

مراجعة

الصف السابع

الفصل الدراسي الأول

رئيس القسم

أ / بندر المطيري

اعداد

قسم الاجتماعيات

مدير المدرسة

أ / احمد مرزوق المطيري

مراجعة سابع الفصل الدراسي الأول

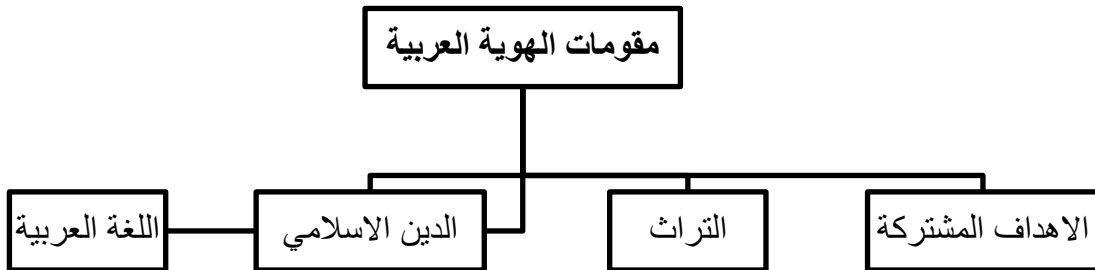
* تعريف الوطن العربي

مجموعة الدول العربية التي يجمعها عدد من السمات المشتركة مثل الدين واللغة ويمتد ضمن قارتين آسيا وأفريقيا

* أكمل العبارات الآتية بما يناسبها:

- ١ - يمتد الوطن العربي ضمن قارتي آسيا وأفريقيا
- ٢ - اللغة الرسمية للدول العربية تسمى اللغة العربية
- ٣ - الدين الذي يجمع الدول العربية هو الدين الإسلامي
- ٤ - يضم الوطن العربي ٢٢ دولة عربية.
- ٥ - تبلغ مساحة الوطن العربي ١٣.٥٠٠ مليون كم
- ٦ - دولة عربية تتكون من اتحاد ٤ جزر تسمى جمهورية جزر القمر وعاصمتها تسمى مورني
- ٧ - انضمت جمهورية جزر القمر الى جامعة الدول العربية عام ١٩٩٣
- ٨ - تمثل مساحة الوطن العربي من جملة مساحة العالم حوالي ١٠%
- ٩ - القارة المجاورة لقارتي آسيا وأفريقيا تسمى قارة أوروبا
- ١٠ - أكبر الدول العربية في الجناح الآسيوي هي السعودية وأصغرهم هي البحرين
- ١١ - أكبر الدول العربية في الجناح الأفريقي هي الجزائر وأصغرهم هي جزر القمر
- ١٢ - ينفصل الجناح العربي الآسيوي عن الجناح العربي الأفريقي عن طريق البحر الأحمر

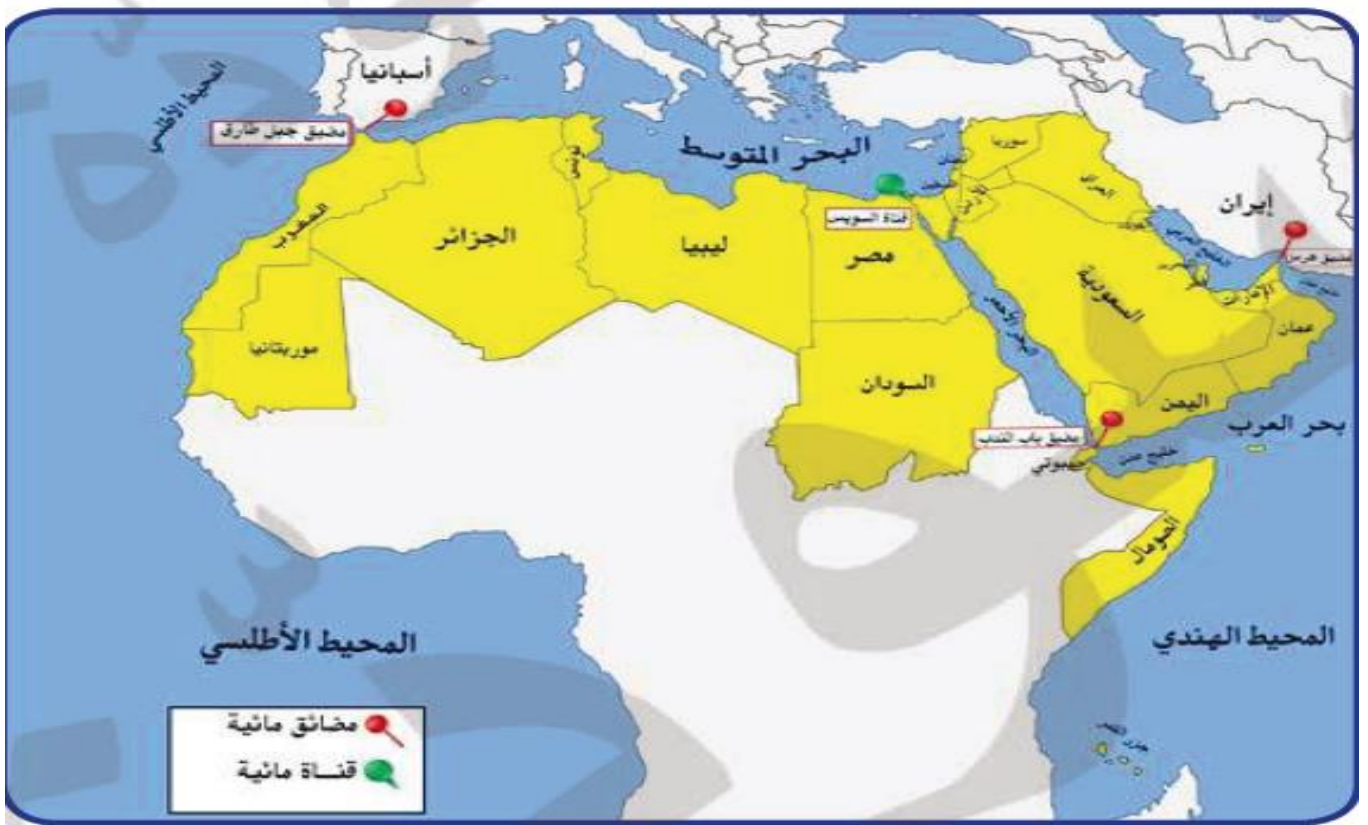
* اكمل المخطط السهمي التالي:-



موقع الوطن العربي وحدوده

***عرف ما يلي :-**

- ١- **المسطحات المائية** / جميع أشكال المياه على سطح الأرض مثل المحيطات والبحار ...
- ٢- **القناة** / مجرى مائي صناعي ضيق يشق لأغراض الري والنقل.
- ٣- **المضيق** / ممر مائي ضيق يصل بين بحرين أو محيطين أو أي مساحتين كبيرتين نسبيا من الماء.
- ٤- **الموقع الاستراتيجي** / هو أي موقع ذات مكانة مهمة بين دول العالم
- ٥- **الموقع الفلكي** / هو نقطة من الكرة الارضية يتحدد موقعها بالنسبة لدوائر العرض وخطوط الطول.
- ٦- **الموقع النسبي** / موقع الدولة بالنسبة لليابسة والماء
- ٧- **خطوط الطول** / هي عبارة عن خطوط وهمية ترسم على الكرة الأرضية وتقسّمها لشرق وغرب.
- ٨- **دوائر العرض** / هي عبارة عن خطوط وهمية ترسم على الكرة الأرضية وتقسّمها لشمال وجنوب.



*** علل لما يأتي:-**

- ١- يتمتع الوطن العربي بموقع استراتيجي مهم.
- لأنه يقع في وسط العالم ويتحكم في منافذ التجارة
- ويطل على عدة مسطحات مائية

* ما الصفات التي يتمتع بها موقع الوطن العربي؟

- حلقة الوصل بين الشرق والغرب، وبين الشمال والجنوب
- كثرة الموارد الطبيعية وتنوعها
- غني بالثروات الطبيعية
- يشرف على مضائق وممرات عالمية مهمة

* **أكمل:** - يمتد القسم الأكبر من الوطن العربي في القسم الغربي الجناب الأفريقي

* قارن بين خطوط الطول ودوائر العرض:-

وجه المقارنة	خطوط الطول	دوائر العرض
التعريف	خطوط وهمية ترسم على الكرة الأرضية وتقسّمها لشرق وغرب	خطوط وهمية ترسم على الكرة الأرضية وتقسّمها لشمال وجنوب
العدد	٣٦٠	١٨٠
الخط الرئيسي	خط جرينتش	خط الاستواء
مميزاته	معرفة الوقت	تقسيم الأرض لأقاليم حرارية

* أكمل العبارات الآتية بما يناسبها:

- ١- المسطح المائي الذي يحد الوطن العربي من الغرب يسمى المحيط الأطلسي
- ٢- يقع الوطن العربي بالنسبة لقارة اسيا في جهة جنوب غرب قارة آسيا
- ٣- يقع الوطن العربي بالنسبة لقارة افريقيا شمال وشمال شرق قارة إفريقيا
- ٤- يشكل سكان الوطن العربي حوالي ٥% من سكان العالم
- ٥- الدولة العربية التي يمر بها خط الاستواء هي الصومال
- ٦- الدولة العربية التي يمر بها خط جرينتش هي الجزائر
- ٧- القارة المجاورة للوطن العربي من جهة الشمال هي أوروبا
- ٨- الدولة التي تشرف علي قناة السويس هي مصر

* حدود الوطن العربي :-

البحرية	البرية	حدود الوطن العربي
البحر المتوسط	تركيا	الشمال
الخليج العربي	إيران	الشرق
المحيط الاطلسي		الغرب

* علل لما يأتي:-

- ١- للوطن العربي أهمية جغرافية كبيرة (أهمية استراتيجية)
 - يقع في وسط العالم
 - يطل على عدة مسطحات مائية لها أهمية للملاحة والتجارة
- ٢- الوطن العربي يمتلك أهمية اقتصادية .
 - لأنها منطقة عبور لحركة الملاحة والتجارة العالمية
 - ظهور النفط بكميات كبيرة
- ٣- تنافس الدول الاستعمارية للاستيلاء على الوطن العربي منذ القرن الثامن عشر الميلادي
 - لأهمية موقع الوطن العربي الاستراتيجية
 - لأنه يتحكم في منافذ التجارة العالمية
 - يطل على مسطحات مائية ذات أهمية كبيرة للملاحة والتجارة العالمية
- ٤ - للوطن العربي أهمية حضارية وثقافية .
 - قامت على أرضه حضارات عديدة وهبطت على أرضه الديانات السماوية الثلاثة (اليهودية -المسيحية - الإسلام)

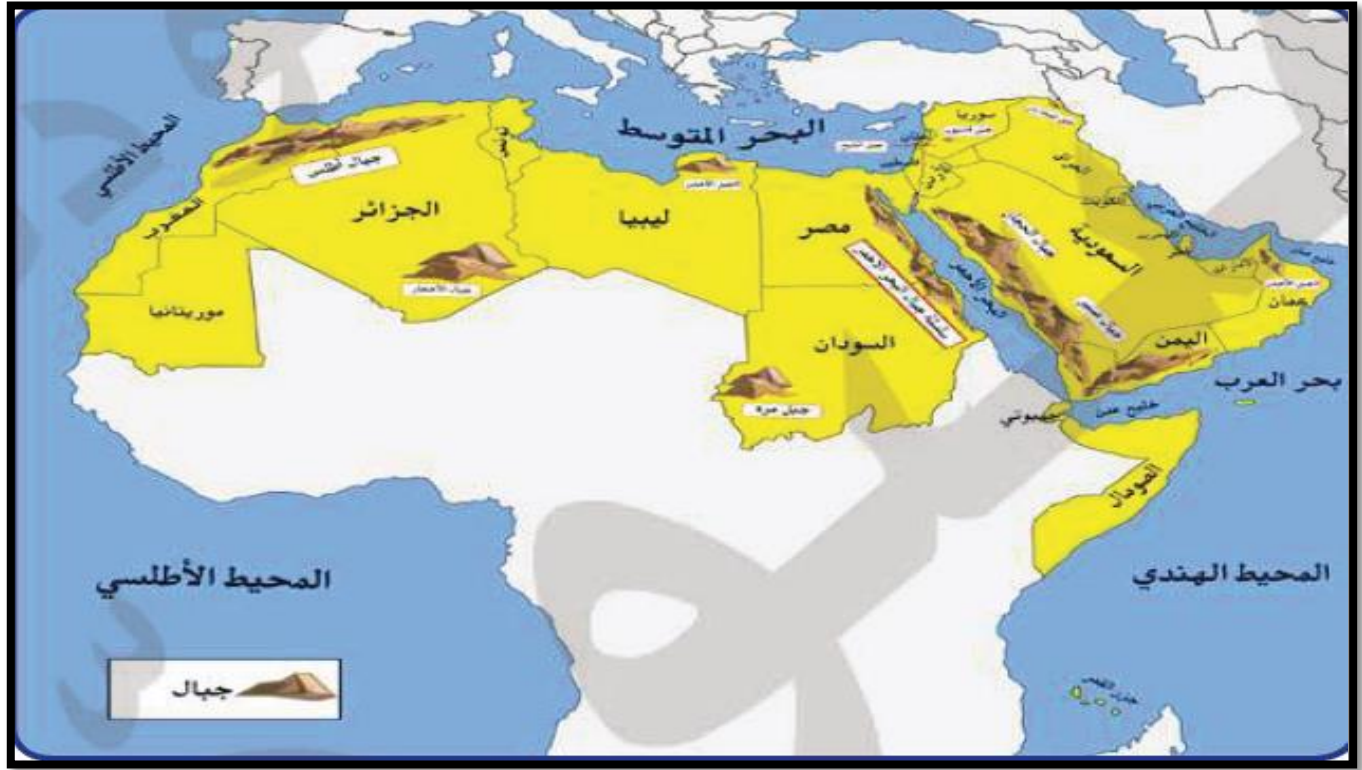
ملامح السطح في الوطن العربي

عرف المفاهيم الآتية :-

التضاريس	أشكال سطح الأرض من مرتفعات ومنخفضات
الجبل	كل ما ارتفع من الأرض له قمة لا يقل عن 1000 متر
التل	كل ما ارتفع من الأرض ولا يصل ارتفاعه الى 1000 متر
الهضاب	ارض مرتفعة سطحها مستو وتمتد على مساحة كبيرة
السهول	مساحة من سطح الأرض تتميز باستوائها وقلة ارتفاعها

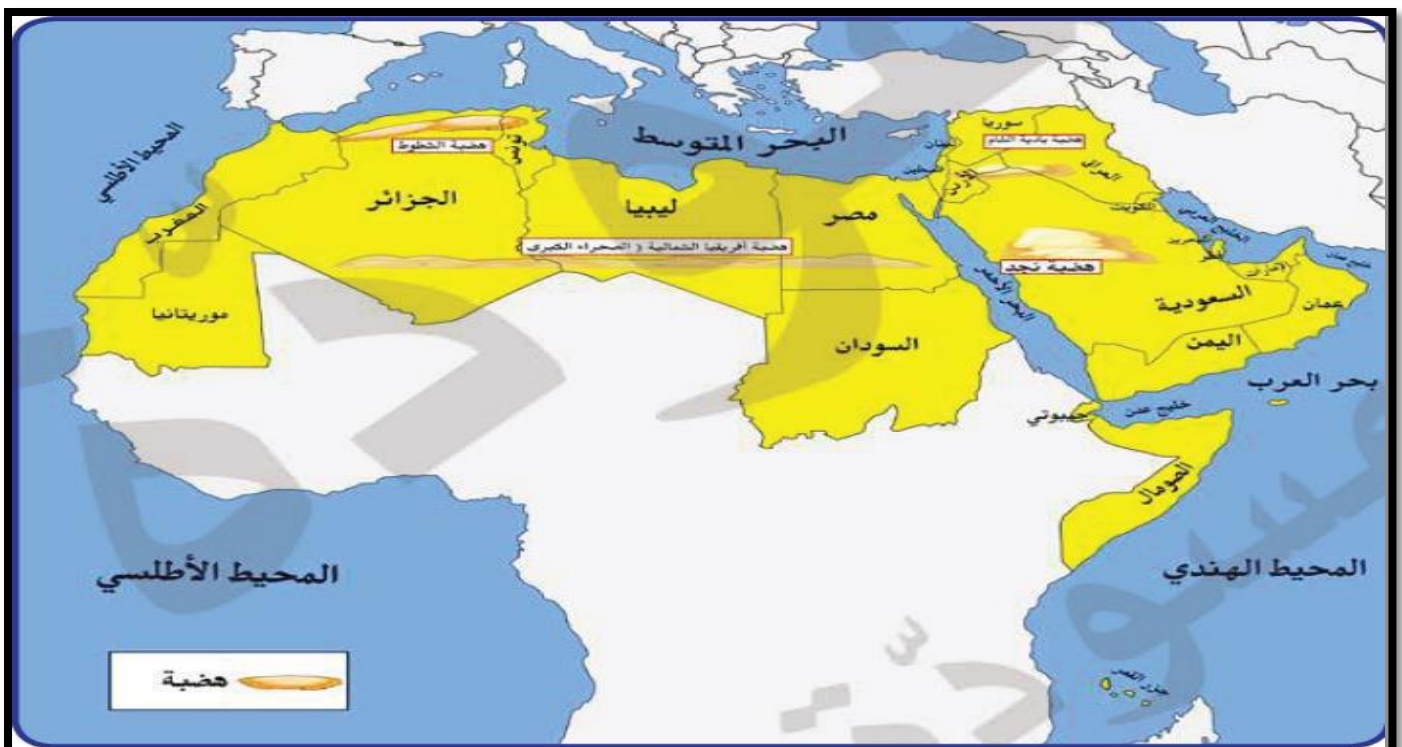
*اهم الجبال التي تقع في الوطن العربي في الجناح الآسيوي والافريقي:-

الجناح الآسيوي		الجناح الأفريقي	
اسم الجبل	الدولة التي يقع فيها	اسم الجبل	الدولة التي يقع فيها
- جبل قاسيون	- سوريا	- جبال البحر الاحمر	- مصر - السودان
- الجبل الأخضر	- عمان	- جبل مرة	- السودان
- جبال الحجاز	- السعودية	- جبال أطلس	- المغرب - الجزائر
-جبال عسير	- اليمن السعودية	-جبال الاحجار	- الجزائر
- جبل الشيخ	- سوريا - لبنان	- الجبل الاخضر	- ليبيا



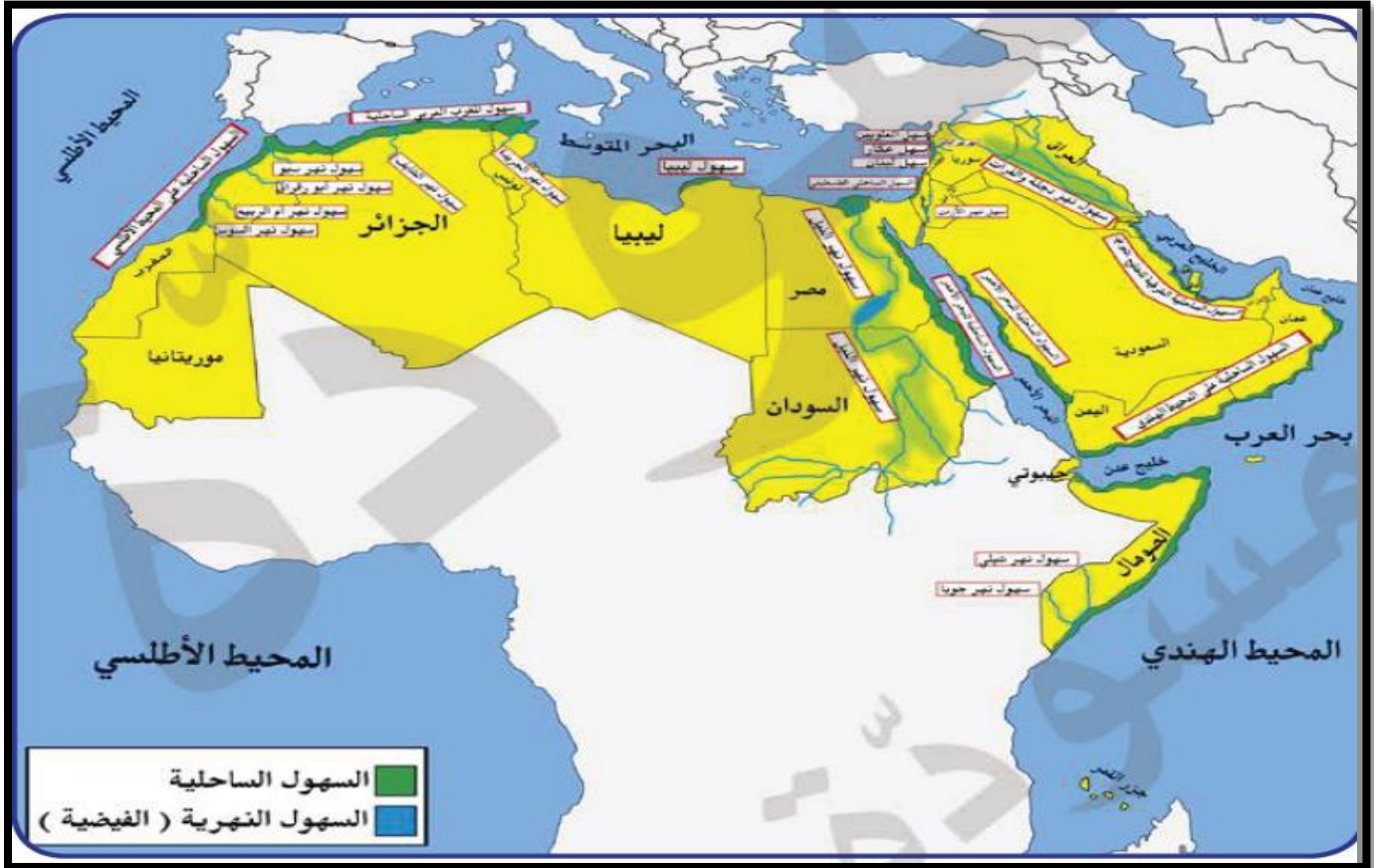
*أكمل العبارات الآتية بما يناسبها:

- ١- من أكثر أشكال التضاريس في الوطن العربي انتشارا هي الهضاب.
- ٢- هضبة نجد تقع في دولة اسمها السعودية.
- ٣- يعتبر من أهم الأنهار في الجناح الآسيوي بالوطن العربي نهر الفرات.
- ٤- مظهر تضاريسي يشغل مساحات واسعة تمتد من الشرق إلى الغرب وتغطي معظم أرجاء الوطن العربي يسمى الهضاب.



***أهم الهضاب التي تقع في الوطن العربي في الجناح الآسيوي والافريقي:-**

أهم الهضاب في الوطن العربي في الجناح الآسيوي		أهم الهضاب في الوطن العربي في الجناح الأفريقي	
اسم الهضبة	الدولة التي تقع فيها	اسم الهضبة	الدولة التي تقع فيها
- نجد	- السعودية	- الصحراء الكبرى	- مصر - ليبيا - الجزائر
- بادية الشام	- العراق - سوريا - الأردن	- الشطوط	- الجزائر



***أهم السهول التي تقع في الوطن العربي في الجناح الآسيوي والافريقي:-**

سهول الجناح الآسيوي		
اسم السهل	نوعه	الدول التي يقع فيها السهل
• سهول دجلة والفرات	• فيضية	• العراق - سوريا
• سهول نهر الأردن	• فيضية	• الأردن
• سهول نهر العاصي	• فيضية	• سوريا
• سهول المحيط الهندي	• ساحلية	• اليمن - عمان
• سهول الخليج العربي	• ساحلية	• دول الخليج العربي
• سهول البحر الأحمر	• ساحلية	• السعودية - اليمن
• سهل لبنان	• ساحلية	• لبنان

سهول الجناح الافريقي		
اسم السهل	نوعه	الدول التي يقع فيها السهل
• سهول نهر النيل	• فيضية	• مصر - السودان
• سهول نهر جوبا وشبيلي	• فيضية	• الصومال
• سهول نهر المجردة	• فيضية	• تونس
• سهول الشليف	• فيضية	• الجزائر
• سهول نهر ام الربيع	• فيضية	• المغرب
• سهول البحر الاحمر	• ساحلية	• مصر - السودان
• سهول المغرب العربي	• ساحلية	• تونس - الجزائر - المغرب
• سهول المحيط الاطلسي	• ساحلية	• المغرب - موريتانيا

* فرق بين السهول الساحلية والفيضية :-

السهول الفيضية (النهرية)	السهول الساحلية
هي الاراضي المنخفضة التي تكونت من التربة التي حملتها مياه الانهار	هي الاراضي المنبسطة التي تجاور سواحل البحار والمحيطات

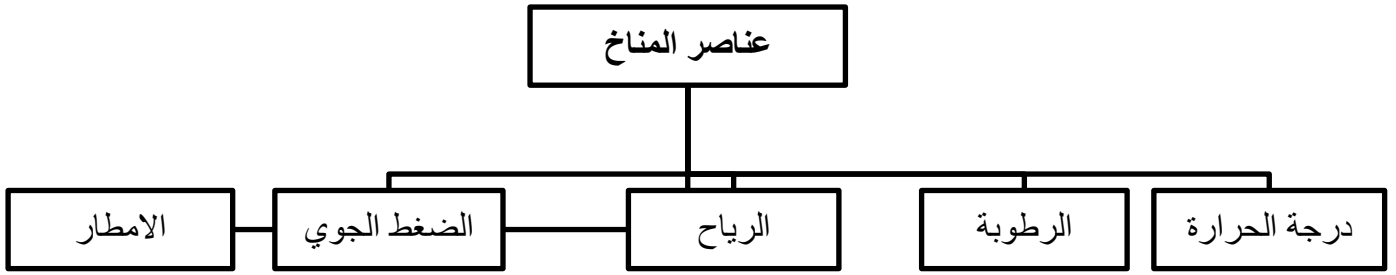
* علل لما يأتي :-

- 1- تركيز السكان في مناطق السهول الفيضية في الوطن العربي
- بسبب خصوبة التربة وتوفر المياه الصالحة للشرب
- 2- تعتبر تربة السهول الفيضية من أكثر أنواع التربة الخصبة ؟
- لانجراف التربة من مياه الأنهار ولاحتوائها على العديد من المواد العضوية .

المناخ في الوطن العربي

*عرف المفاهيم الاتية:-

- 1- **المناخ** / حالة الجو خلال فترة زمنية طويلة
- 2- **الطقس** / حالة الجوفي مكان ما خلال فترة زمنية قصيرة تتراوح بين يوم و عدة ايام
- 3- **الضغط الجوي** / وزن الهواء فوق أي مكان
- 4- **الإقليم** / يعني انه منطقة او مكان مثل اقليم صناعي يعني منطقة صناعية



*** اذكر اهم العوامل المؤثرة في مناخ الوطن العربي :-**

- ١- الموقع بالنسبة لدوائر العرض
- ٢- القرب او البعد عن المسطحات المائية
- ٣- التضاريس
- ٤- الرياح

*** علل لما يأتي :-**

١- الأماكن القريبة من خط الاستواء تتميز بارتفاع درجة حرارتها على مدار أيام السنة

- وذلك بسبب القرب او البعد عن خط الاستواء
- بسبب تعامد أشعة الشمس عليها طوال العام

٢- ارتفاع الحرارة في وسط الوطن العربي صيفا

- لان الشمس تكون عمودية على المنطقة الواقعة بين خط الاستواء و مدار السرطان

٣- ارتفاع الحرارة جنوب الوطن العربي شتاء

- لان الشمس تكون عمودية على المنطقة الواقعة بين خط الاستواء و مدار الجدي.

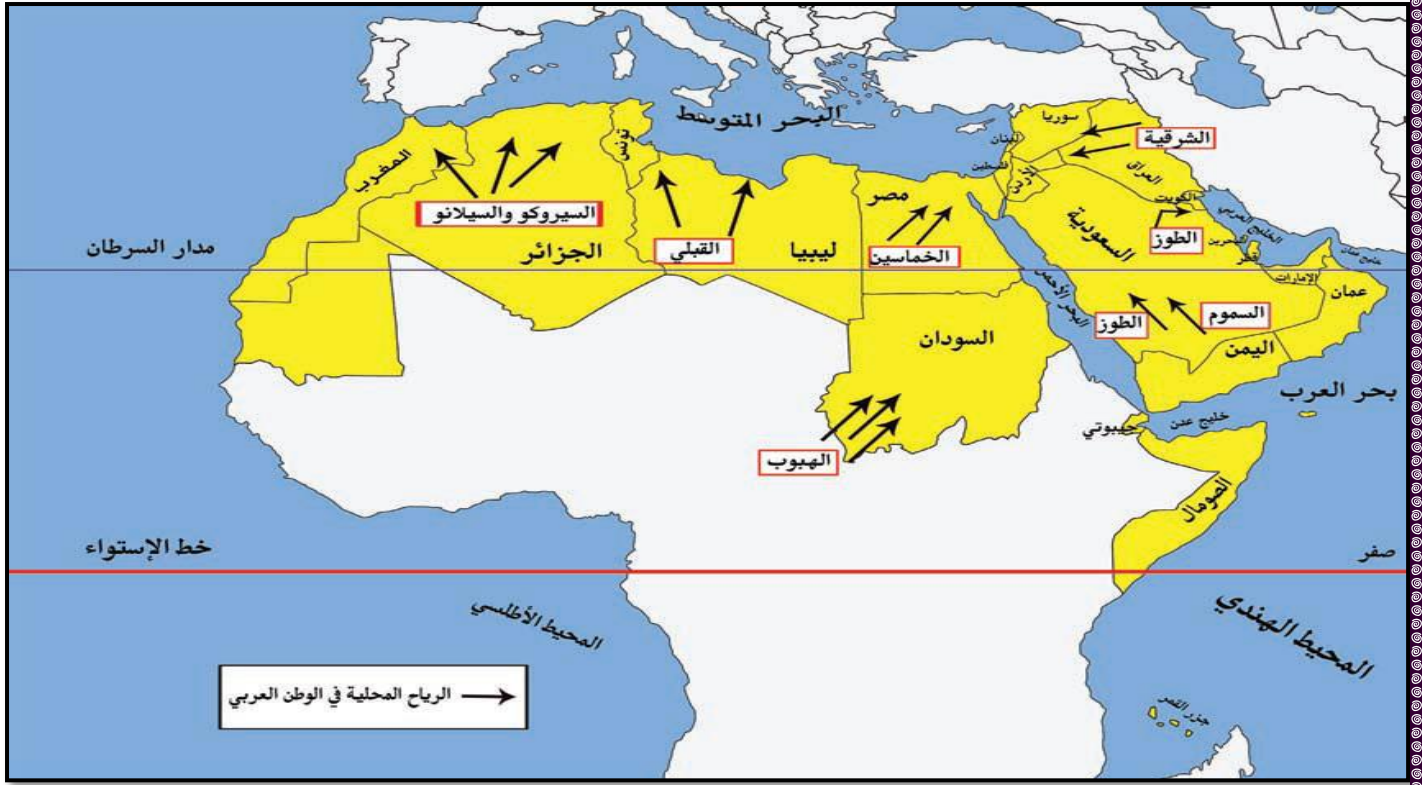
٤- المدن الساحلية اكثر اعتدالا في المناخ صيفا وادفا شتاء

- لان البحر يلطف من درجات الحرارة

٥- اذا مرت الرياح على بحار محملة ببخار الماء قد يسبب سقوط الأمطار أو ارتفاع نسبة الرطوبة و إذا كانت تهب من

منطقة جافة فإنها لا تسقط مطرا

- لان الرياح تأخذ صفة المنطقة التي تمر بها.



*** اكتب اسماء الرياح المحلية التي تهب علي الوطن العربي :-**

الدولة	اسم الرياح المحلية
العراق	الشرقية
الكويت	الطوز
السعودية	السموم
مصر	الخماسين
ليبيا	القبلي
السودان	الهبوب
دول المغرب العربي	السيركو والسيانو

*** قارن بين المناخ في الوطن العربي صيفا وشتاء :-**

في فصل الشتاء	في فصل الصيف
- الشمس عمودية بين خط الاستواء ومدار الجدي	- الشمس عمودية بين خط الاستواء ومدار السرطان
- ترتفع الحرارة في جنوب الوطن العربي وتقل كلما اتجهنا شمالا	- ترتفع الحرارة في وسط الوطن العربي ومعتدلة على سواحل البحر المتوسط وشمال الوطن العربي

النبات الطبيعي في الوطن العربي

* عرف ما يلي :-

النبات الطبيعي: هو الذي ينمو تلقائيا بعد سقوط الأمطار دون أن يتدخل الإنسان فيه

* اذكر اهم العوامل المؤثرة في تنوع النبات الطبيعي في الوطن العربي:-

- ١- نوع التربة : فهي التي تمد النبات بالغذاء وهي متنوعة
- ٢- المناخ : حيث يؤثر في تنوع النبات بسبب اختلاف درجات الحرارة وكمية الامطار .

* قارن بين كلامين :-

الغابات المعتدلة	الغابات المدارية الحارة	وجه المقارنة
- عدم كثافتها - دائمة الخضرة - يتساقط بعضها في الشتاء	- ضخامة اشجارها - متشابكة الأغصان - ارتفاعها الكبير - اوراق عريضة	الخصائص
- أرز- العرعر - الصنوبر- البلوط - سنديان - الزيتون - وحمضيات - فواكه - التفاح	- الساج - التاك - الابنوس - السدر - الاثل - السنط - الماهوجني	اهم الأشجار
صناعة الفلين	تستخدم في البناء وصناعة الأثاث	الاستخدامات

حشائش الاستبس	حشائش السافانا	وجه المقارنة
- هي حشائش قصيرة نوعا ما وتنمو في الشتاء خلال سقوط الامطار وتعرف في بلاد المغرب باسم الحلفا	- هي حشائش طويلة يختلف نوعها حسب كمية الامطار - تقسم الي (طويلة - متوسطة - قصيرة)	التعريف
- صناعة الورق والحبال والحصر وتربي عليها الأغنام والأبل والخيول والحمير	- تربي عليها الماشية	الاستخدام

* اذكر اهم خصائص النباتات الصحراوية:-

- ١- يحمي نفسه بلحاء سميك واوراق ابريه
- ٢- القدرة على تخزين المياه
- ٣- جذوره طويلة

* أهم الحيوانات السائدة في المنطقة الصحراوية :-

(الابل - الماعز - والارانب البرية - الضب - الطيور مثل الصقور و البوم و الحبارى والعقارب والخنافس - وكذلك الزواحف كالأفاعي والحيوانات القارضة مثل الفئران والجربوع)

* أكمل العبارات التالية :

- ١- سفينة الصحراء تطلق على حيوان يسمى الجمال
- ٢- تنتشر حشائش الأستبس في دولة عربية تسمى المغرب
- ٣- تعرف حشائش الأستبس في بلاد المغرب باسم الحلفا

* علل لما يأتي :-

- ١- تنوع النبات الطبيعي في الوطن العربي
- بسبب نوع التربة و المناخ و الامطار
- ٢- اختلاف أنواع حشائش السافانا في دول الوطن العربي .
- بسبب اختلاف كمية الامطار

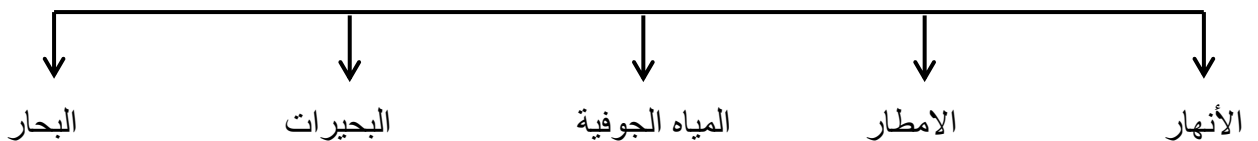
الثروة المائية في الوطن العربي

* عرف ما يلي :-

- ١- **النهر:** مجرى مائي عذب ينحدر على الدوام لينتهي الى البحر أو الى نهر آخر أو في الصحراء
- ٢- **المياه الجوفية:** هي المياه التي توجد في جوف الأرض (باطن الأرض)
- ٣- **الأفلاج:** الماء الجاري (وهو مجرى صغير مائي في الأرض)
- ٤- **البحيرة:** مسطح مائي تحيط به اليابسة من جميع الاتجاهات

* اكمل المخطط السهمي :-

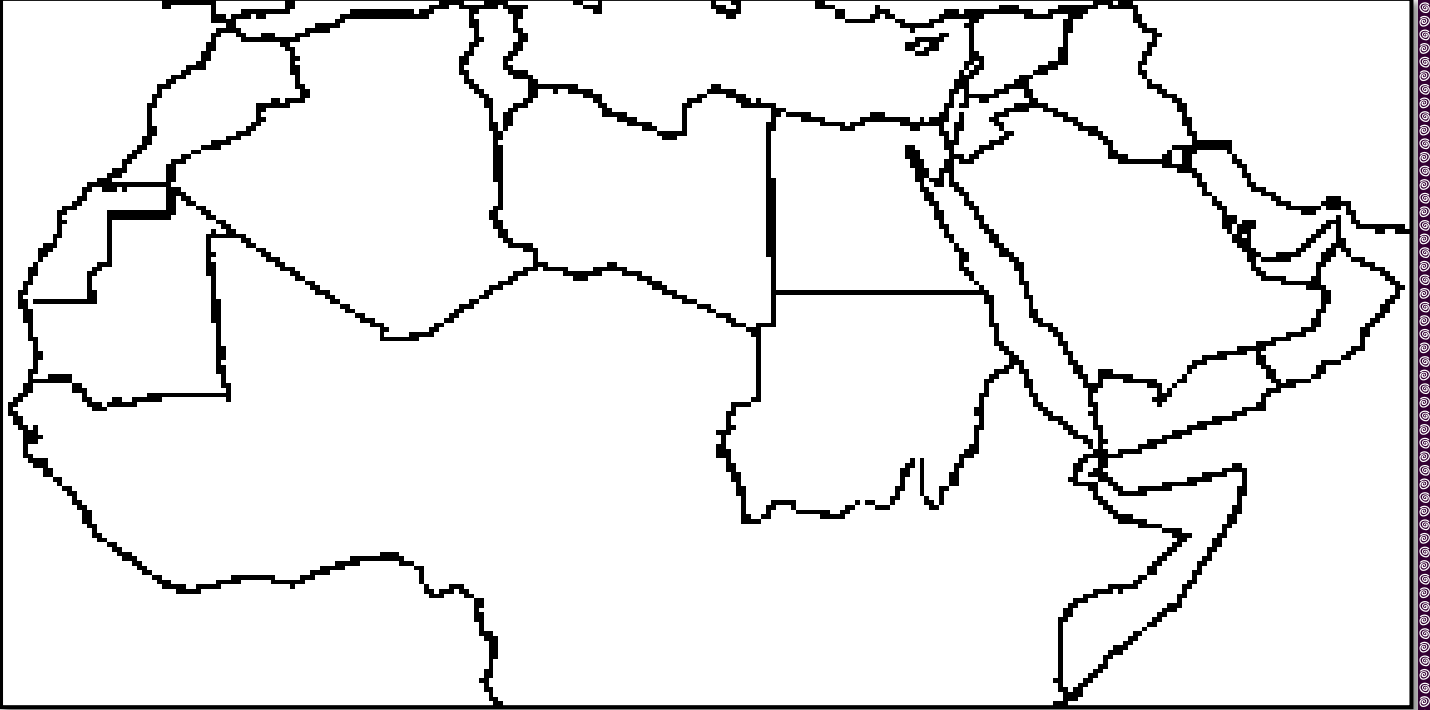
(مصادر المياه في الوطن العربي)



* صفات الأمطار في الوطن العربي :-

- ١- تذبذب كمية الأمطار بين عام و آخر.
- ٢- تقتصر الأمطار في الوطن العربي على الأطراف الشمالية و الأطراف الجنوبية
- ٣ - تتصف الأمطار بأنها قليلة بصفة عامة ، ما عدا المناطق التي تقع من ورائها الجبال مثل سواحل المغرب و ساحل لبنان .

* حدد علي خريطة الوطن العربي الصماء اهم الانهار؟



انهار الوطن العربي (الجناح الاسيوي)		انهار الوطن العربي (الجناح الافريقي)	
الدولة التي يمر بها	اسم النهر	الدولة التي يمر بها	اسم النهر
العراق - سوريا	دجلة و الفرات	مصر- السودان	النيل
الاردن	الاردن	الصومال	جوبا - شبيلي
سوريا	العاصي	تونس	المجردة
		الجزائر	الشليف
		المغرب	ام الربيع - السبو - ابو الرقراق - السوس

***أكمل العبارات التالية :**

- ١- من اهم مصادر المياه في الوطن العربي و تتميز بأنها مياه عذبة تسمى الأنهار
- ٢- تكثر الآبار الجوفية في المناطق الصحراوية عند الواحات
- ٣- أكثر الدول في نسبة استخدام المياه المحلاة هي الكويت بنسبة ٥٥ %
- ٤- يصب نهري دجلة والفرات في الخليج العربي
- ٥- أصبحت دولة الكويت تعتمد اعتماداً كاملاً على تحلية مياه البحر منذ بداية ١٩٥٣ م
- ٦- تنتشر في المملكة العربية السعودية محطات لتحلية المياه أهمها منطقة الإحساء
- ٧- من اهم محطات تحلية المياه في قطر محطة رأس عبيد وأبو فنتاس

*** أشكال مصادر المياه الجوفية -**

(الآبار - الأفلاج - العيون - الينابيع)

*** أسباب تدني نسبة المياه :-**

- ١- الطرق التقليدية المستخدمة في استغلال المياه .
- ٢- شبكات نقل المياه قديمة .
- ٣- عدم وجود برامج لإدارة المياه في الوطن العربي .

*** كيف نحافظ على ثروة المياه ونخفف من المشكلة:-**

- ١ - ترشيد استخدام المياه والحد من التبذير في المنازل.
- ٢ - استخدام الوسائل الحديثة كالري بالتنقيط
- ٣ - الاستفادة من المياه الجوفية.
- ٤ - معالجة مياه الصرف الصحي .
- ٥ - إقامة البحيرات والسدود لتجميع مياه الأمطار والسيول.

الاهمية الحضارية للوطن العربي

*عرف ما يلي :-

١- الحضارة: كل ما يطرأ على المجتمع من تقدم وتطور ورفي في جميع نواحي الحياة الدينية والسياسية والاقتصادية والاجتماعية والفكرية

* اذكر المجالات التي برعت بها حضارات الوطن العربي :-

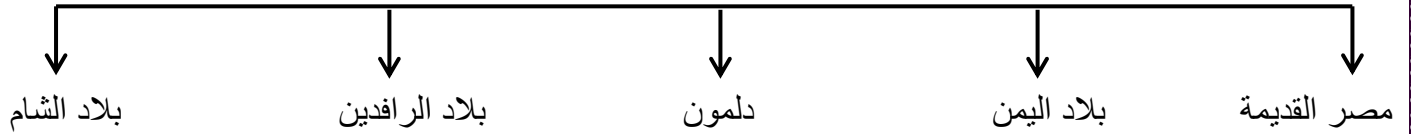
- برعت في الفنون والآداب والعلوم وتقدمت في مجالات الزراعة والصناعة والتجارة

* بما تفسر :-

١- ازدهار العديد من الحضارات الإنسانية التي استقرت في ربوع الوطن العربي .


- نظرا لتوافر مقومات قيام الحضارة

* اذكر اهم الحضارات التي قامت في الوطن العربي :-



* اذكر اهم عوامل قيام الحضارة :-

- ١- الموقع الاستراتيجي
- ٢- توفر المياه العذبة
- ٣- اعتدال المناخ
- ٤- توفر الثروات الطبيعية
- ٥- توافر العنصر البشري



(معبد باربار) حضارة دلمون	(سد مأرب) حضارة بلاد اليمن	(اثار تدمر) حضارة بلاد	(اسد بابل) حضارة بلاد الرافدين	(الاهرامات) الحضارة المصرية القديمة
--------------------------------	---------------------------------	-----------------------------	-------------------------------------	---

** نماذج من الحضارات القديمة في الوطن العربي **

١- الحضارة المصرية القديمة

* عرف ما يلي :-

- البعث والخلود :- عودة الروح للجسد بعد الموت

* اذكر اهم عوامل قيام الحضارة المصرية القديمة :-

- ١- تنوع الصخور والمعادن
- ٢- امتداد الصحراء
- ٣- نهر النيل
- ٤- اعتدال المناخ وجفافه

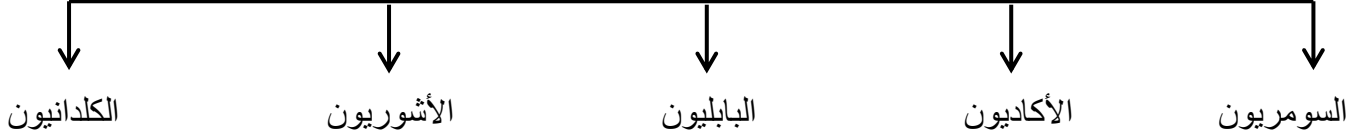
* اذكر اهم المحاصيل الزراعية في مصر القديمة :-

(القمح - البقول - الفواكه - الكتان - تربية الماشية)

* اذكر اهم الصناعات في مصر القديمة :-

(الاواني الفخارية والمعدنية - الورق - السفن - الملابس الكتانية)

* أهم الحضارات التي قامت في بلاد الرافدين



* علل لما يأتي :-

١- ازدهار الزراعة في بلاد الرافدين

- بسبب خصوبة التربة - واتساع السهول - توفر المياه

٢- انتشار الأمن والأمان في حضارة بلاد الرافدين

- بسبب انتشار الشرائع القانونية (شريعة حمورابي)

* ما الجهود التي قام بها سكان بلاد الرافدين في مجال الزراعة ؟

١- أقاموا السدود على الأنهار ٢- جففوا المستنقعات ٣- استصلحوا الأراضي

* صنف المنتجات التجارية الواردة والمصدرة من وإلى بلاد الرافدين:-

الواردات	الصادرات
المعادن والأحجار والأخشاب	المنتجات الزراعية والمنسوجات الصوفية

* أهم الصناعات في حضارة بلاد الرافدين :-

- الاواني الفخارية والحلي



عقد بابلي



أنية فخارية تعود للعصر الأكادي

* اذكر أهم العلوم والفنون في حضارة بلاد الرافدين :-

- برعوا في الطب والفلك والهندسة والحساب

- من اهم الفنون لديهم فن النحت والبناء والرسم والايواني الفخارية



حدائق بابل المعلقة

فن النحت



حمورابي



مسلة حمورابي

لاحظ الصورة التالية ثم أجب عما يلي:

١- اسم الشخصية في الصورة؟

- الملك البابلي " حمورابي "

٢- ما أهم ما اشتهر به؟ وما عددها؟

- شرائع حمورابي / ٢٨٢ مادة قانونية

٣- ما المبدأ الذي اعتمد عليه؟

- (السن بالسن والعين بالعين)

٤- ما أثر تطبيق الشرائع؟

- أدى إلى انتشار الأمن والأمان في البلاد

٣- حضارة بلاد اليمن

* علل لما يأتي :-

١- أهل اليمن أسياة التجارة العربية

- لأنهم سيطروا على الطرق التجارية ،

- امتدت تجارتهم بين شمال شبه الجزيرة العربية وجنوبها ،

- وجود تبادل تجاري مع الحضارات المجاورة لها

٢- قيام حضارة في جنوب غرب شبه الجزيرة العربية (بلاد اليمن)



- توفر المياه العذبة

- المناخ المناسب

- الموقع الذي يسمح بقيام نشاط تجاري

* أكمل العبارات التالية :

١- تقع دولة حمير جنوب اليمن .

٢- عاصمة دولة معين مدينة تسمى قرناو .

٣- تقع دولة سبأ في وسط اليمن

٤- أشهر ملوك سبأ هي الملكة بلقيس .

٥- الخط الذي عرف في بلاد اليمن يسمى الخط المسند و عدده ٢٩ حرف .

٦- أهم معالم دولة سبأ هو سد مأرب .

* دلل على صحة العبارة :

- اشتهر سكان جنوب غرب شبه الجزيرة العربية بالمشاريع الزراعية :-

١- قاموا ببناء السدود والخزانات و أشهرها و أشهرها سد مأرب ، نظموا عمليات الري

٢- من أشهر منتجاتها الزراعية (الموز - اللبان القرفة)

* قال تعالى .{إِنِّي وَجَدْتُ امْرَأَةً تَمْلِكُهُمْ وَأُوتِيَتْ مِنْ كُلِّ شَيْءٍ وَلَهَا عَرْشٌ عَظِيمٌ} النمل آية ٢٣

١- من هي الملكة التي ذكرت بالآية السابقة ؟ الملكة بلقيس

٢- ما أسم المملكة التي حكمتها سبأ

٣- في أي دولة تقع اليمن

* قارن بين ممالك بلاد اليمن :-

الدولة	معين	سبأ	حمير
العاصمة	قرناو	مأرب	ريدان
الموقع	شمال اليمن	وسط اليمن	جنوب اليمن
المعالم	مدينة يثل الدينية	نقش سبأ	مائدة قرايين

٤ - حضارة دلمون

* ما المقصود بـ :-

أوال :- اسم اطلق على البحرين قديماً نسبة إلى صنم اسمة أوال كانت تعبده قبيلة وائل التي حكمت البحرين آنذاك

* علل لما يأتي :-



راس الثور



ختم يعود لحضارة دلمون

- تعتبر حضارة (دلمون) مركز مهما للمواصلات البحرية .

١- لأنها تقع وسط حضارات الشرق القديم

٢- بحكم موقعها وسط الخليج العربي

- **أذكر أهم الأنشطة الاقتصادية في حضارة دلمون :-**

- صيد الأسماك

- الزراعة

- الغوص على اللؤلؤ

الوطن العربي مهد الديانات السماوية الثلاث

* ما المقصود بكلا من :-


١- **الديانة اليهودية :** هي التي نزلت على سيدنا موسى عليه السلام وكتابها التوراة .

٢- **الديانة المسيحية :** هي التي نزلت على سيدنا عيسى بن مريم عليه السلام وكتابها الانجيل .

٣- **الديانة الإسلامية :** وهي خاتمة الرسالات السماوية الثلاث التي نزلت على سيدنا محمد صلى الله عليه وسلم في مكة

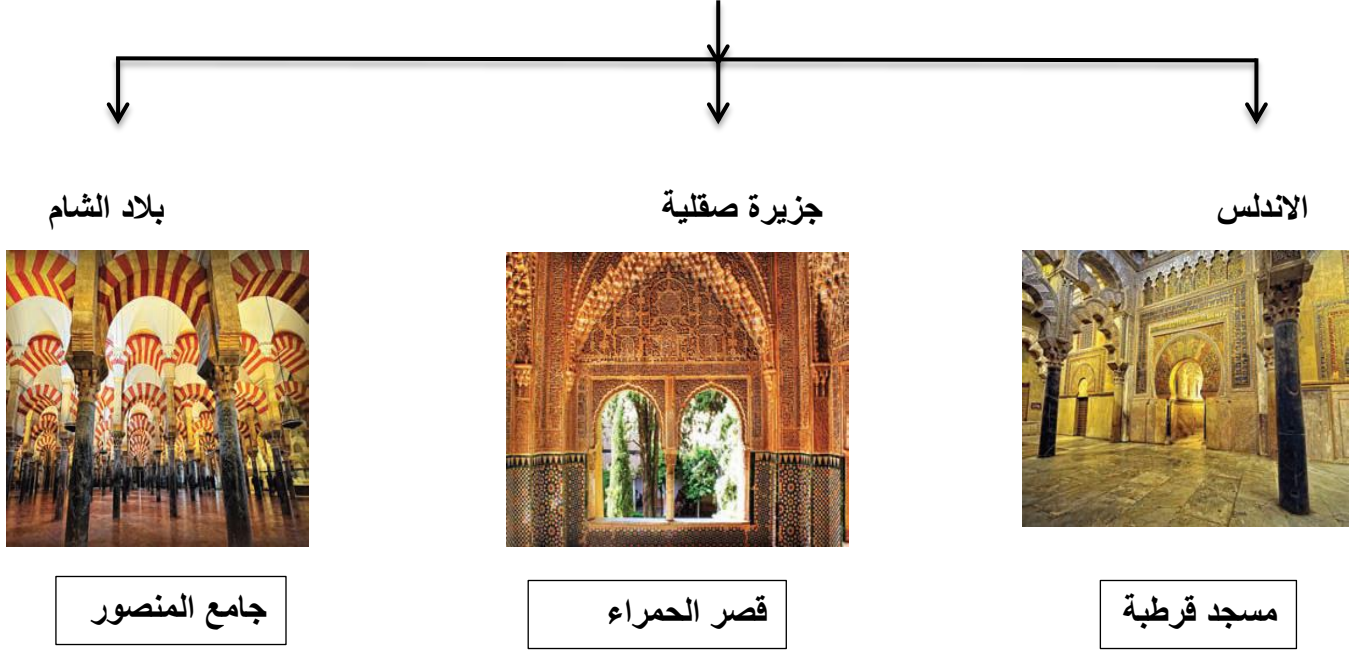
وكتابها القرآن الكريم ..

• النبي	• الكتاب	• الديانة
محمد (ص)	القرآن الكريم	• الإسلام
عيسى	الانجيل	• المسيحية
موسى	التوراة	• اليهودية

اسم المعلم الديني المسجد الحرام	اسم الدولة : المملكة العربية السعودية	
اسم المعلم الديني: المسجد النبوي	اسم الدولة: المملكة العربية السعودية	
اسم المعلم الديني: المسجد الأقصى	اسم الدولة: فلسطين	

الحضارة العربية الإسلامية

* عدد مراكز انتقال الحضارة العربية الإسلامية إلى قارة أوروبا



* فرق بين كل من :-

مبادئ الحضارة الإسلامية	أسس قيام الحضارة الإسلامية
- الشورى والعدل والمساواة	- الصلاة في نظامها ومواقبتها - الزكاة التي تحقق التكافل الاجتماعي